


Challenge mathématique 2024 – 2025

Manche 3 – Niveau 2A


Calcul mental : problèmes à proposer pour
continuer à s'entraîner




Romain achète pour 18€ de tulipes jaunes et pour 22€ de tulipes rouges. Il paie avec un billet de 50 euros. Combien la vendeuse va-t-elle lui rendre ?



Romain achète pour 15€ de tulipes jaunes et pour 35€ de tulipes rouges. Il paie avec un billet de 100 euros. Combien la vendeuse va-t-elle lui rendre ?



Romain achète pour 37€ de tulipes jaunes et pour 50€ de tulipes rouges. Il paie avec un billet de 100 euros. Combien la vendeuse va-t-elle lui rendre ?



Un sachet contient 50 bulbes de tulipe.
On peut planter ... lignes de 10 tulipes.



Un sachet contient 120 bulbes de tulipe.

On peut planter ... lignes de 12 tulipes.



Un sachet contient 15 bulbes de tulipe.

On peut planter ... lignes de 3 tulipes.

